

1. Hops bardzo lubi czekoladę. Wyruszył więc w podróż, żeby dowiedzieć się, jak powstaje czekolada. Narysuj po śladzie drogę, jaką przebył Hops. Zaczynij od drzewa kakaowca.



Owoc kakaowca z ziarnami.



Drzewo kakaowca.

Suszenie ziaren kakaowca.



Transport worków z ziarnami.

Sklep z czekoladą.



Fabryka czekolady.

1. Prażenie ziaren w piecu.
2. Mielenie ziaren na proszek.
3. Przygotowanie masy czekoladowej.
4. Wlewanie masy do forem.



Załadunek na statek.

# Krasnal Mniam i czekolada

W pewnym sklepie z czekoladą  
stoi krasnal Mniam przed ladą  
i, wyjmując złoty grosik,  
o tabliczkę grzecznie prosi.  
Na tabliczce mnóstwo kostek,  
więc dzielenie będzie proste,  
bo to zwyczaj jest krasnali,  
by się wszyscy częstowali.  
Gości biegnie już gromada,  
i wnet zniknie czekolada.

*Urszula Piotrowska*




1. Ponumeruj obrazki w odpowiedniej kolejności. Wklej właściwe liczby.

2. Krasnal Mniam poczęstował czekoladkami swoich przyjaciół. Nalep każdemu z nich tyle czekoladek, żeby wszyscy mieli po tyle samo.



1. Narysuj po śladzie wzory na namiocie Indian. Pokoloruj je.




Kto z was lubi pić kakao? Kakao lubili też pić Indianie już bardzo dawno temu. Ale ich napój bardzo różnił się od tego, który znamy dziś. Mieszano go z wodą i nie dodawano do niego cukru, był więc gorzki. Indianie uważali jednak, że nie tylko jest smaczny, ale też daje im dużo siły. Pili go tylko w czasie różnych uroczystości.

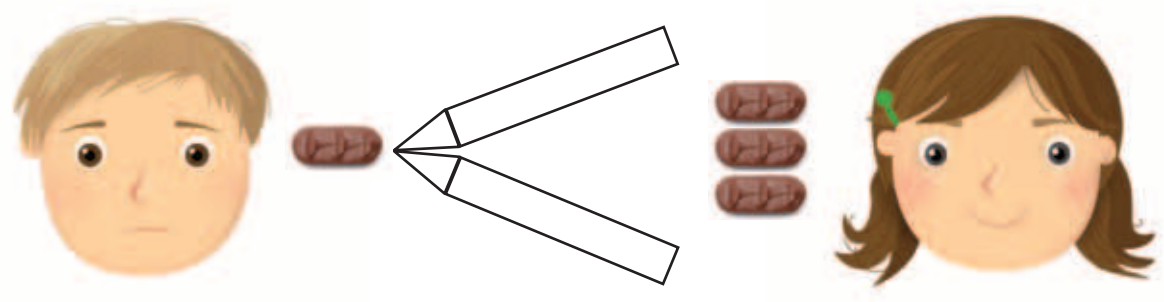
2. Przyjrzyj się, w jaki sposób Indianie rysowali zwierzęta. Połącz zdjęcia zwierząt z rysunkami, które przypominają dane zwierzęta.



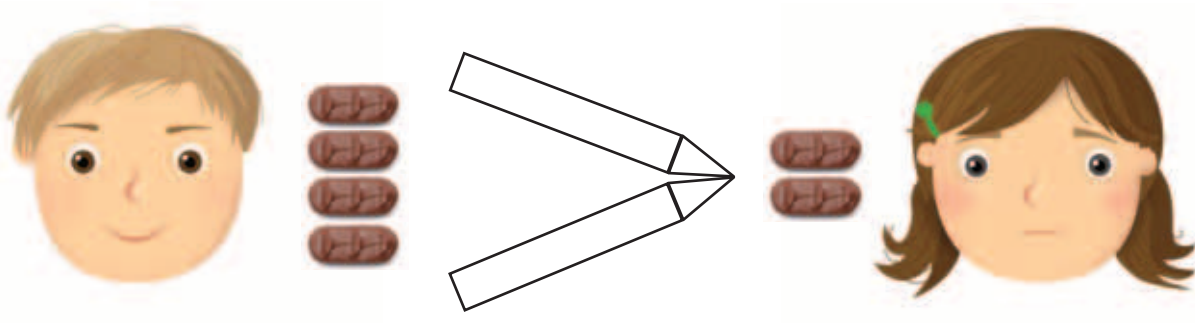
3. Narysuj dowolne zwierzę w podobny sposób, jak rysowali dawni Indianie.



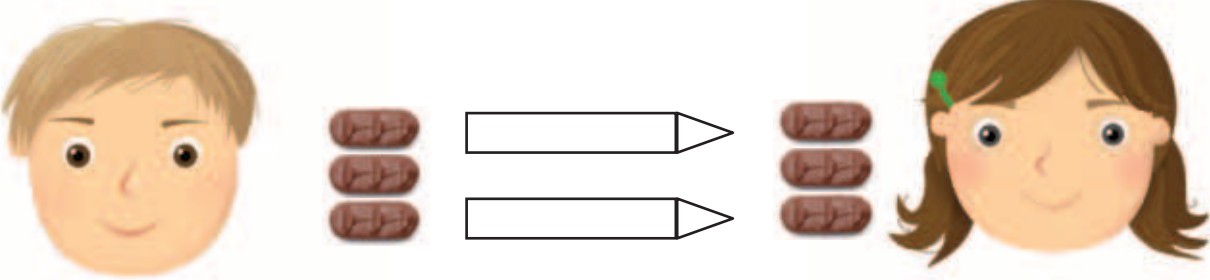
1. Kto ma więcej czekoladek: Olek czy Pola? Pokoloruj kredki i napisz po śladzie znaki.



1 < 3

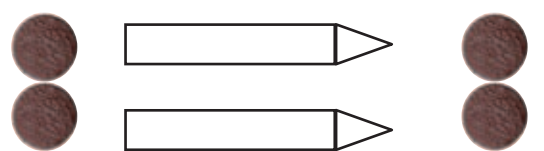


4 < 2

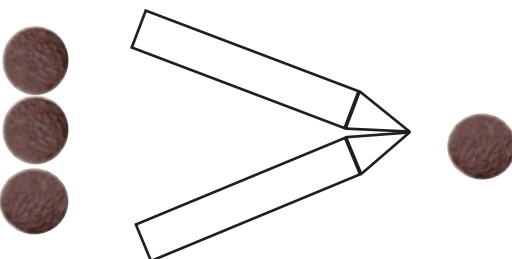


3 = 3

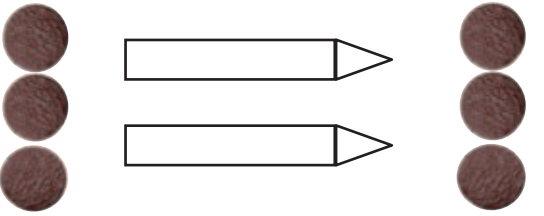
2. Pokoloruj kredki i napisz po śladzie właściwy znak.



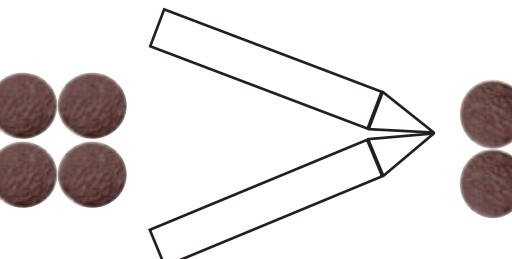
2 < = > 2



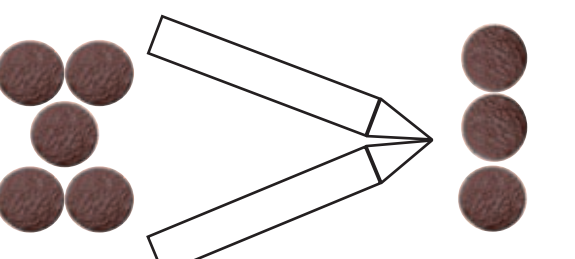
3 < = > 1



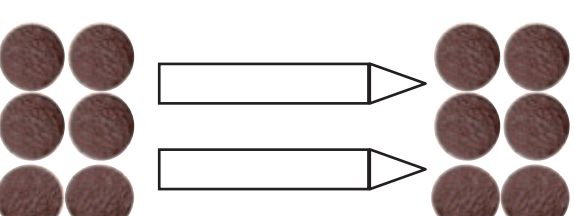
3 < = > 3



4 < = > 2



5 < = > 3



6 < = > 6